

VEKTORI I PRAVAC

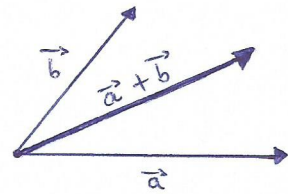
NIKA ČALIĆ, 3.d

VEKTORI

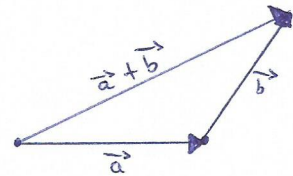
- VEKTOR - usmjerena dužina određena iznosom, smjerom i orijentacijom
- Smjer - određen je pravcem na kojem vektor leži
- Orijentacija - označuje se strelicom
- Isti vektori - imaju isti smjer, dužinu i orijentaciju
- Suprotni vektori - imaju isti smjer, ali različitu orijentaciju
- Jedinичni vektor - vektor dužine 1
 - jedinичni vektor na x osi: \vec{i}
 - jedinичni vektor na y osi: \vec{j}

KOLINEARNOST vektora \vec{a} i \vec{b} $\vec{a} = k \cdot \vec{b}$

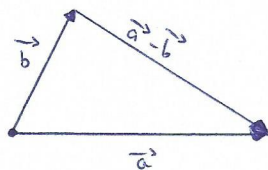
ZBRAJANJE vektora : a) pravilo paralelograma



b) pravilo trokuta



ODUZIMANJE VEKTORA



Koordinatni prikaz vektora \vec{AB} : $\vec{AB} = (x_2 - x_1)\vec{i} + (y_2 - y_1)\vec{j}$

Dužina vektora \vec{a} : $|\vec{a}| = \sqrt{(x_2 - x_1)^2 + (y_2 - y_1)^2}$

$$|\vec{a}| = \sqrt{a_1^2 + a_2^2}$$

Kut između 2 vektora :

$$\cos \varphi = \frac{a_1 b_1 + a_2 b_2}{|\vec{a}| \cdot |\vec{b}|}$$

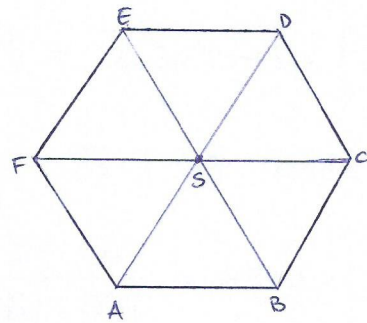
$$\vec{a} = a_1 \vec{i} + a_2 \vec{j}$$

$$\vec{b} = b_1 \vec{i} + b_2 \vec{j}$$

ZADATCI - VEKTORI

1. Neka su A, B, C, D, E, F vrhovi pravilnog šesterokuta, a točka S sjecište dijagonala.
Izračunajte: a) $\vec{AB} + \vec{SD} + \vec{SF}$

b) $\vec{AF} - \vec{DE}$



Rješenje: a) $\vec{AB} + \vec{SD} + \vec{SF}$
 $\vec{SD} = \vec{BC}$ $\vec{SF} = \vec{CS}$
 $\vec{AB} + \vec{BC} + \vec{CS} = \vec{AC} + \vec{CS} = \vec{AS}$

b) $\vec{AF} - \vec{DE}$
 $\vec{ED} = \vec{FS}$
 $\vec{AF} - \vec{DE} = \vec{AF} + \vec{ED} = \vec{AF} + \vec{FS} = \vec{AS}$

2. Koliki kut zatvaraju vektori $2\vec{a} + \vec{b}$ i $\vec{a} - 2\vec{b}$ ako je $\vec{a} = 2\vec{i} - \vec{j}$ i $\vec{b} = -\vec{i} - 2\vec{j}$

Rješenje: $\vec{u} = 2\vec{a} + \vec{b} = 2(2\vec{i} - \vec{j}) + (-\vec{i} - 2\vec{j}) = 4\vec{i} - 2\vec{j} - \vec{i} - 2\vec{j} = 3\vec{i} - 4\vec{j}$
 $\vec{v} = \vec{a} - 2\vec{b} = 2\vec{i} - \vec{j} - 2(-\vec{i} - 2\vec{j}) = 2\vec{i} - \vec{j} + 2\vec{i} + 4\vec{j} = 4\vec{i} + 3\vec{j}$

$$\cos(\vec{u}, \vec{v}) = \frac{\vec{u} \cdot \vec{v}}{|\vec{u}| \cdot |\vec{v}|} = \frac{u_x \cdot v_x + u_y \cdot v_y}{\sqrt{u_x^2 + u_y^2} \cdot \sqrt{v_x^2 + v_y^2}} = \frac{12 - 12}{\sqrt{25} \cdot \sqrt{25}} = 0$$

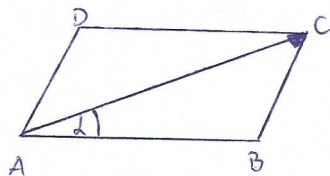
$$\vec{u} \perp \vec{v}$$

$$\sphericalangle(\vec{u}, \vec{v}) = 90^\circ$$

Zatvaraju pravi kut.

3. Zadana su tri vrha paralelograma ABCD A(2, 1), B(-2, 4), D(0, -3). Odredite:

- koordinatu vrha C
- dužinu dijagonale \vec{AC}
- kut između vektora \vec{AC} i \vec{AB}



Rješenje: a) koordinatu vrha C $C(x_c, y_c)$

$$\vec{AB} = \vec{DC}$$

$$\vec{AB} = (x_B - x_A)\vec{i} + (y_B - y_A)\vec{j}$$

$$\vec{AB} = (-2 - 2)\vec{i} + (4 - 1)\vec{j}$$

$$\vec{AB} = -4\vec{i} + 3\vec{j}$$

$$\vec{DC} = (x_c - 0)\vec{i} + (y_c + 3)\vec{j}$$

$$x_c\vec{i} + (y_c + 3)\vec{j} = -4\vec{i} + 3\vec{j}$$

$$\left. \begin{array}{l} x_c = -4 \\ y_c + 3 = 3 \\ y_c = 0 \end{array} \right\} C(-4, 0)$$

b) definišim dijagonale \vec{AC}

$$\vec{AC} = (x_c - x_a)\vec{i} + (y_c - y_a)\vec{j}$$

$$\vec{AC} = (-4 - 2)\vec{i} + (0 - 1)\vec{j}$$

$$\vec{AC} = -6\vec{i} - \vec{j}$$

$$|\vec{AC}| = \sqrt{(-6)^2 + (-1)^2} = \sqrt{36 + 1} = \sqrt{37}$$

c) kut između vektora \vec{AC} i \vec{AB}

$$\cos \alpha = \frac{\vec{AB} \cdot \vec{AC}}{|\vec{AB}| \cdot |\vec{AC}|} = \frac{-4 \cdot (-6) + 3 \cdot (-1)}{5 \cdot \sqrt{37}} = \frac{21}{5\sqrt{37}}$$

$$\alpha = 46^\circ 19' 55,99''$$

4. Zadani su vektori $\vec{a} = -3\vec{i} + 6\vec{j}$ i $\vec{b} = 8\vec{i} - 3\vec{j}$. Odredite vektor \vec{c} ako je

$$\vec{a} \cdot \vec{c} = 11 \quad \text{i} \quad \vec{b} \cdot \vec{c} = 1.$$

Rješenje:

$$\vec{c} = c_x \vec{i} + c_y \vec{j}$$

$$\vec{a} \cdot \vec{c} = -3c_x + 6c_y$$

$$\vec{b} \cdot \vec{c} = 8c_x - 3c_y$$

$$-3c_x + 6c_y = 11$$

$$8c_x - 3c_y = 1 \quad | \cdot 2$$

$$-3c_x + 6c_y = 11$$

$$16c_x - 6c_y = 2$$

$$13c_x = 13$$

$$c_x = 1$$

$$\implies$$

$$-3c_x + 6c_y = 11$$

$$6c_y = 11 + 3$$

$$c_y = \frac{7}{3}$$

$$\vec{c} = \vec{i} + \frac{7}{3}\vec{j}$$

5. Izračunajte $(\vec{a} - \vec{b}) \cdot (\vec{a} + 2\vec{b})$ ako je kut između vektora \vec{a} i \vec{b} jednak 135° i ako je $|\vec{a}| = 4$ i $|\vec{b}| = 3\sqrt{2}$.

Rješenje:

$$(\vec{a} - \vec{b}) \cdot (\vec{a} + 2\vec{b}) = \vec{a} \cdot \vec{a} + 2\vec{a} \cdot \vec{b} - \vec{b} \cdot \vec{a} - 2\vec{b} \cdot \vec{b}$$

$$\vec{a} \cdot \vec{b} = |\vec{a}| \cdot |\vec{b}| \cdot \cos \varphi$$

$$\vec{a} \cdot \vec{a} = 4 \cdot 4 \cdot \cos 0^\circ = 16$$

$$\vec{a} \cdot \vec{b} = 4 \cdot 3\sqrt{2} \cdot \cos 135^\circ = -12$$

$$\vec{b} \cdot \vec{b} = 3\sqrt{2} \cdot 3\sqrt{2} \cdot \cos 0^\circ = 18$$

$$(\vec{a} - \vec{b}) \cdot (\vec{a} + 2\vec{b}) = 16 + 2 \cdot (-12) - (-12) - 18 = -12$$

6. Neka su \vec{a} i \vec{b} dva nelinearna vektora. Odredi realni broj x za koji su vektori $\vec{c} = (x+2)\vec{a} + \vec{b}$ i $\vec{d} = 2x\vec{a} + (x-1)\vec{b}$ kolinearni vektori suprotne orijentacije.

Rješenje: \vec{a} i \vec{b} su nelinearni vektori.

$$\vec{c} = (x+2)\vec{a} + \vec{b}$$

$$\vec{d} = 2x\vec{a} + (x-1)\vec{b}$$

$$\vec{c} = k\vec{d}$$

$$(x+2)\vec{a} + \vec{b} = 2kx\vec{a} + k(x-1)\vec{b}$$

$$x+2 = 2kx \Rightarrow k = \frac{x+2}{2x}$$

$$1 = k(x-1)$$

$$1 = \frac{x+2}{2x} (x-1) \cdot 2x$$

$$2x = (x+2)(x-1)$$

$$2x = x^2 + x - 2$$

$$x^2 - x - 2 = 0$$

$$x_1 = 2 \quad x_2 = -1$$

Za $x = 2$ je $\vec{c} = 4\vec{a} + \vec{b}$ i $\vec{d} = 4\vec{a} + \vec{b}$ (jednaki vektori)

Za $x = -1$ je $\vec{c} = \vec{a} + \vec{b}$ i $\vec{d} = -2\vec{a} - 2\vec{b}$ (kolinearni vektori suprotne orijentacije)

7. Odredi vektor \vec{b} okomit na vektor $\vec{a} = -2\vec{i} + \vec{j}$ ako je $|\vec{b}| = \sqrt{5}$.

Rješenje: $\vec{b} \perp \vec{a} \Rightarrow \vec{a} \cdot \vec{b} = 0 \Rightarrow -2bx + by = 0 \Rightarrow by = 2bx$

$$|\vec{b}| = \sqrt{5}$$

$$\sqrt{bx^2 + by^2} = \sqrt{5} \quad |^2$$

$$bx^2 + by^2 = 5$$

$$bx^2 + 4bx^2 = 5$$

$$5bx^2 = 5 \quad /:5$$

$$bx^2 = 1 \quad | \sqrt{\quad}$$

$$bx = \pm 1$$

$$by = \pm 2$$

$$\vec{b} = \pm (\vec{i} + 2\vec{j})$$

PRAVAC

EKSPLICITNI OBLIK

$$y = kx + l$$

k - koeficijent smjera

l - odsječak pravca na y -osi

IMPLICITNI OBLIK

$$Ax + By + C = 0$$

SEGMENTNI OBLIK

$$\frac{x}{m} + \frac{y}{n} = 1$$

m - odsječak na x -osi

n - odsječak na y -osi

Površina trokuta kojeg pravac zatvara s koordinatnim osima : $P = \frac{|m \cdot n|}{2}$

Jednadžba pravca određenej jednom točkom $T(x_1, y_1)$: $y - y_1 = k(x - x_1)$

Koeficijent smjera pravca kroz točke $T_1(x_1, y_1)$ i $T_2(x_2, y_2)$: $k = \frac{y_2 - y_1}{x_2 - x_1}$

Kut između 2 pravca : $\text{tg } \varphi = \left| \frac{k_2 - k_1}{1 + k_1 k_2} \right|$

Ujet paralelnosti : $k_2 = k_1$

Ujet okomitosti : $k_2 = -\frac{1}{k_1}$

Udaljenost 2 točke : $d(A, B) = |AB| = \sqrt{(x_2 - x_1)^2 + (y_2 - y_1)^2}$

Polovište \overline{AB} : $P\left(\frac{x_1 + x_2}{2}, \frac{y_1 + y_2}{2}\right)$

Udaljenost točke $T(x_0, y_0)$ od pravca $Ax + By + C = 0$: $d = \left| \frac{Ax_0 + By_0 + C}{\sqrt{A^2 + B^2}} \right|$

ZADATCI - PRAVAC

1. Zadane su točke $A(4, -7)$, $B(1, 2)$; $C(-1, -2)$. Napiši implicitni oblik jednadžbe pravca kroz točke A i B.

Rješenje: $p_{AB} \dots y - y_A = k \cdot (x - x_A)$

$$k = \frac{y_B - y_A}{x_B - x_A}$$

$$k = \frac{2 + 7}{1 - 4} = -\frac{9}{3} = -3$$

$$y + 7 = -3 \cdot (x - 4)$$

$$y + 7 = -3x + 12$$

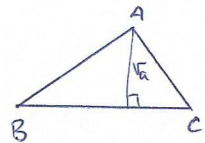
$$3x + y - 5 = 0$$

2. Točke $A(-3, -1)$, $B(6, 2)$; $C(1, 3)$ vrhovi su trokuta ABC.

a) Odredite jednadžbu pravca koji sadrži visinu iz vrha A tog trokuta.

b) Odredite dužinu visine iz vrha C tog trokuta.

c) Odredite veličinu kuta pri vrhu A tog trokuta.



Rješenje:

$$a) k_{BC} = \frac{3 - 2}{1 - 6} = \frac{1}{-5} = -\frac{1}{5} \Rightarrow k_{\perp} = 5$$

$$A(-3, -1), k=5 \Rightarrow p_{A \dots} y + 1 = 5(x + 3)$$

$$y = 5x + 15 - 1$$

$$y = 5x + 14$$

$$b) k_{AB} = \frac{2 + 1}{6 + 3} = \frac{3}{9} = \frac{1}{3} \Rightarrow p_{AB} \dots y + 1 = \frac{1}{3}(x + 3)$$

$$y + 1 = \frac{1}{3}x + 1 \quad | \cdot 3$$

$$3y = x$$

$$x - 3y = 0$$

$$|v_c| = d(C, p_{AB}) = \frac{|1 - 3 \cdot 3|}{\sqrt{10}} = \frac{10}{\sqrt{10}} = \frac{\sqrt{10}}{\sqrt{10}} = \frac{10\sqrt{10}}{10}$$

$$|v_c| = \sqrt{10}$$

$$c) k_1 = k_{AB} = \frac{1}{3}$$

$$k_2 = k_{AC} = \frac{3+1}{-1+3} = \frac{4}{2} = 2$$

$$\operatorname{tg} \alpha = \frac{k_2 - k_1}{1 + k_1 k_2} = \frac{2 - \frac{1}{3}}{1 + \frac{1}{3} \cdot 2} = \frac{\frac{5}{3}}{\frac{5}{3}} = 1$$

$$\alpha = 45^\circ$$

3. Ishodištem koordinatnog sustava postavi pravac paralelan pravcu $\frac{x}{4} + \frac{y}{3} = -1$

Rješenje: 1. korak - ekspllicitni oblik jednačine pravca

$$\frac{x}{4} + \frac{y}{3} = -1 \quad | \cdot 3$$

2. korak - odredi k

$$\frac{3}{4}x + y = -3$$

3. korak - odredi k_1

$$y = -\frac{3}{4}x - 3$$

4. korak - napiši jednačinu pravca p_0

$$k = -\frac{3}{4}$$

$$k_1 = -\frac{3}{4}$$

$$O(0,0) \text{ po... } y - y_1 = k \cdot (x - x_1)$$

$$y = -\frac{3}{4}x$$

4. Koji kut zatvaraju pravci $p_1 \dots 2x - y + 3 = 0$ i $p_2 \dots 3x + 4y + 7 = 0$?

Rješenje: $y = 2x + 3 \Rightarrow k_1 = 2$

$$4y = -3x - 7 \quad | :4$$

$$y = -\frac{3}{4}x - \frac{7}{4} \Rightarrow k_2 = -\frac{3}{4}$$

$$\operatorname{tg} \varphi = \left| \frac{k_2 - k_1}{1 + k_1 k_2} \right|$$

$$\operatorname{tg} \varphi = \left| \frac{-\frac{3}{4} - 2}{1 + 2 \cdot (-\frac{3}{4})} \right| = \frac{11}{2}$$

$$\varphi = 79^\circ 41' 43''$$

5. Pravac prolazi točkom $B(8,6)$ i s koordinatnim osima zatvara trokut površine 12. Kako glasi jednačina pravca?

Rješenje:

$$\frac{x}{m} + \frac{y}{n} = 1$$

$$\frac{8}{m} + \frac{6}{n} = 1$$

$$1^\circ \quad m \cdot n = 24$$

$$m = \frac{24}{n}$$

$$\frac{8}{\frac{24}{n}} + \frac{6}{n} = 1$$

$$\frac{n}{3} + \frac{6}{n} = 1 \quad | \cdot 3n$$

$$n^2 - 3n + 18 = 0$$

Nema rješenja u \mathbb{R} .

$$\frac{|m \cdot n|}{2} = P / 2$$

$$|m \cdot n| = 2P$$

$$|m \cdot n| = 24$$

$$2^\circ \quad m \cdot n = -24$$

$$m = -\frac{24}{n}$$

$$\frac{8}{-\frac{24}{n}} + \frac{6}{n} = 1$$

$$-\frac{n}{3} + \frac{6}{n} - 1 = 0 \quad | \cdot 3n$$

$$n^2 + 3n - 18 = 0$$

$$n_1 = -6$$

$$n_2 = 3$$

$$m_1 = 4$$

$$m_2 = -8$$

$$p_1 \dots \frac{x}{4} + \frac{y}{-6} = 1 \quad | \cdot (-12) \quad p_2 \dots \frac{x}{-8} + \frac{y}{3} = 1 \quad | \cdot (-24)$$

$$p_1 \dots 3x - 2y - 12 = 0$$

$$p_2 \dots 3x - 8y + 24 = 0$$

6. Za koji se najmanji kut mora zahretni pravac $3x - 5y + 12 = 0$ oko svoje nul točke kako bi prošao točkom $T(-1,5)$?

Rješenje:

$$T(-1,5)$$

$$3x - 5y + 12 = 0$$

$$5y = 3x + 12$$

$$y = \frac{3}{5}x + \frac{12}{5}$$

$$\text{nul točka: } 0 = \frac{3}{5}x + \frac{12}{5} \quad | \cdot 5$$

$$3x + 12 = 0$$

$$x = -4$$

$$T_1(-4,0)$$

pravac prolazi točkama T i T_1 .

$$y - y_1 = \frac{y_2 - y_1}{x_2 - x_1} (x - x_1)$$

$$y - 0 = \frac{5 - 0}{-1 - (-4)} (x + 4)$$

$$y = \frac{5}{3} (x + 4)$$

$$y = \frac{5}{3}x + \frac{20}{3}$$

$$k_1 = \frac{5}{3} \quad \text{i} \quad k_2 = \frac{3}{5}$$

$$\text{tg } \varphi = \left| \frac{k_2 - k_1}{1 + k_1 k_2} \right| = \left| \frac{\frac{3}{5} - \frac{5}{3}}{1 + \frac{3}{5} \cdot \frac{5}{3}} \right| = \frac{8}{15}$$

$$\varphi = 28^\circ 4' 21''$$

7. Dvije stranice pravolunika pripadaju pravcima $3x - 4y + 5 = 0$ i $4x + 3y - 5 = 0$. Jedan njegov vrh je točka $A(3, -4)$. Kolike su dužine stranica pravolunika?

Rješenje: $A(3, -4)$
 $p \dots 3x - 4y + 5 = 0$
 $g \dots 4x + 3y - 5 = 0$

Prvo odredimo udaljenost točke A od pravca p

$$x_0 = 3, y_0 = -4$$

$$A = 3, B = -4, C = 5$$

$$a = d(A, p) = \frac{|3 \cdot 3 + (-4) \cdot (-4) + 5|}{\sqrt{9 + 16}} = \frac{30}{5} = 6$$

Sada odredimo udaljenost točke A od pravca g

$$x_0 = 3, y_0 = -4$$

$$A = 4, B = 3, C = -5$$

$$b = d(A, g) = \frac{|4 \cdot 3 + 3 \cdot (-4) - 5|}{\sqrt{16 + 9}} = \frac{5}{5} = 1$$

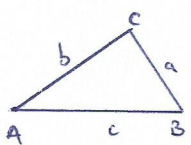
Stranice su $a = 6$ i $b = 1$.

8. Vrhovi trokuta ABC su točke $A(-3, -1)$, $B(7, -6)$, $C(5, 5)$. Kolike su dužine visina tog trokuta?

Rješenje: $A(-3, -1)$

$B(7, -6)$

$C(5, 5)$



$\sqrt{a}, \sqrt{b}, \sqrt{c} = ?$

$$\sqrt{a} = d(A, a) = \frac{|11 \cdot (-3) + 2 \cdot (-1) - 65|}{\sqrt{121 + 4}} =$$

$$= \frac{100}{5\sqrt{5}} = 4\sqrt{5}$$

$$\sqrt{b} = d(B, b) = \frac{|3 \cdot 7 + (-4) \cdot (-6) + 5|}{\sqrt{9 + 16}} =$$

$$= \frac{50}{5} = 10$$

$$\sqrt{c} = d(C, c) = \frac{|1 \cdot 5 + 2 \cdot 5 + 5|}{\sqrt{1 + 4}} = \frac{20\sqrt{5}}{\sqrt{5}} \cdot \frac{\sqrt{5}}{\sqrt{5}}$$

$$= \frac{20\sqrt{5}}{5} = 4\sqrt{5}$$

$$a = BC \dots y + 6 = \frac{5 + 6}{5 - 7} (x - 7)$$

$$y + 6 = -\frac{11}{2} (x - 7) / \cdot 2$$

$$2y + 12 = -11x + 77$$

$$11x + 2y - 65 = 0$$

$$b = AC \dots y + 1 = \frac{5 + 1}{5 + 3} (x + 3)$$

$$y + 1 = \frac{6}{8} (x + 3)$$

$$y + 1 = \frac{3}{4} (x + 3) / \cdot 4$$

$$4y + 4 = 3(x + 3)$$

$$3x - 4y + 5 = 0$$

$$c = BC \dots y + 1 = \frac{-6 + 1}{7 + 3} (x + 3)$$

$$y + 1 = -\frac{1}{2} (x + 3) / \cdot 2$$

$$2y + 2 = -x - 3$$

$$x + 2y - 5 = 0$$