

沙田崇真學校  
2022-2023 年度  
數學 上學期 找三角形

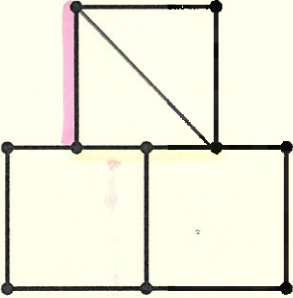
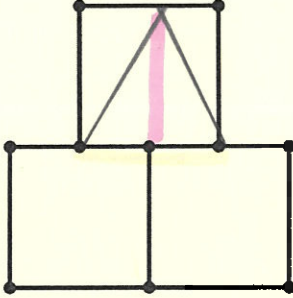
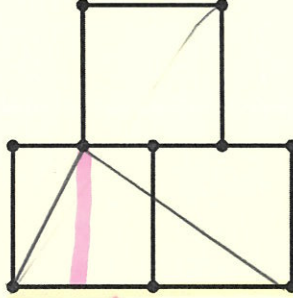
姓名：甘利 (28) 班別：5D 日期：12-13-2022

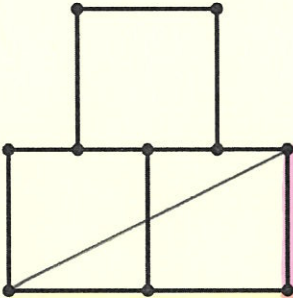
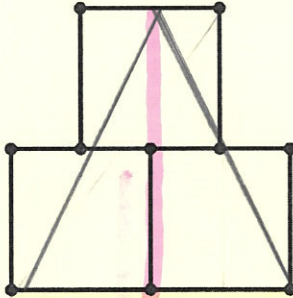
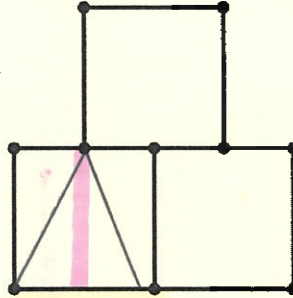
1. 利用圖中的三個面積分別為一單位的正方形。選任何三點，組成一個面積為一單位的三角形。

底=2 ✓	底=2 ✓	底=2 ✓
高=1 ✓	高=1 ✓	高=2 ✓
面積=1 ✓	面積=1 ✓	面積=1 ✓

底=1 ✓	底=1 ✓	底=1 ✓
高=2 ✓	高=2 ✓	高=2 ✗
面積=1 ✓	面積=1 ✓	面積=1 ✗

2. 利用圖中的三個面積分別為一單位的正方形。選任何三點，組成一個面積為 \_\_\_\_\_ 單位的三角形。

		
底 = 1 ✓	底 = 1 ✓	底 = 2 ✓
高 = 1 ✓	高 = 1 ✓	高 = 1 ✓
面積 = 1 ✗	面積 = 1 ✗	面積 = 1 ✓

		
底 = 2 ✓	底 = 2 ✓	底 = 1 ✓
高 = 1 ✓	高 = 2 ✓	高 = 1 ✓
面積 = 1 ✓	面積 = 2 ✓	面積 = 1 ✗