


3上



喜宴的菜好好吃呵！



麥斯，這個送給你！



咦？這是一一個圓形糕餅，跟一般西式的不一樣。

這是我們臺南府城的中式喜餅，老一輩的人稱為一斤餅。

好香呵！

一斤餅的內餡很豐富，很好吃呵！



我要拿回家跟爸媽一起吃！

哈哈，你真是個好孩子！

汪汪汪！

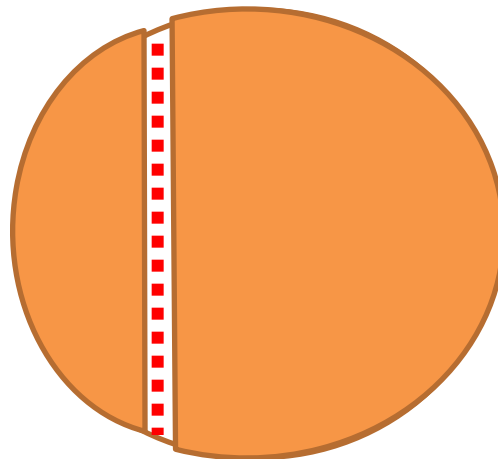
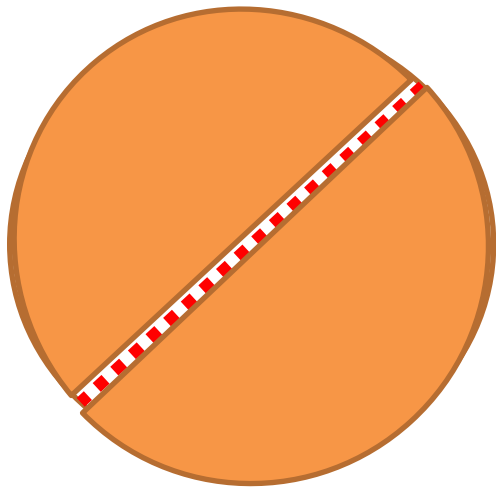
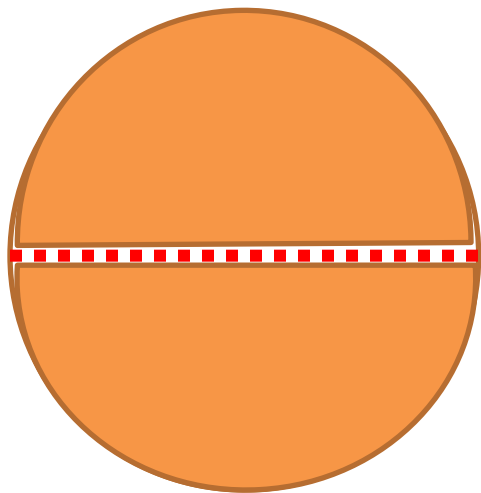


我們家有6個人，把一個一斤餅平分成6份，每個人可以分到多少個餅呢？



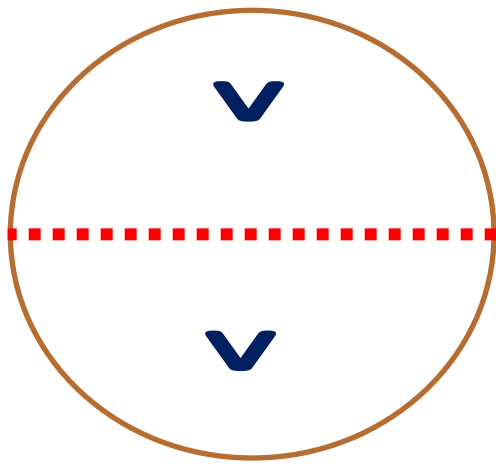
活動一 平分

1. 把一個圓形喜餅，平分給 2 個人，可以怎麼分？

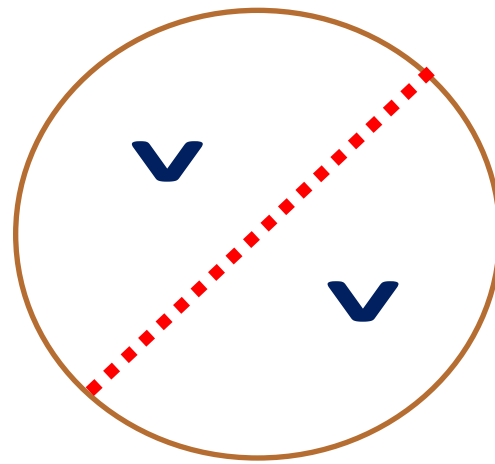


活動一 平分

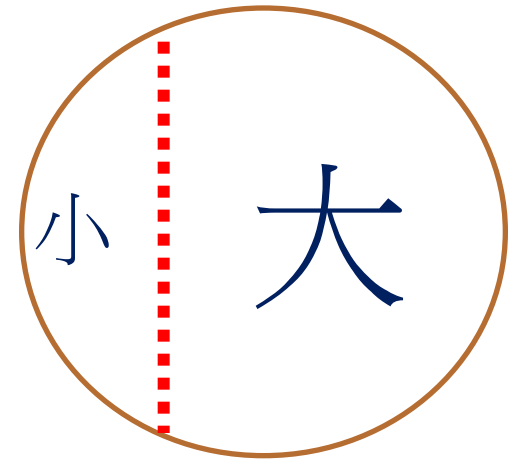
1. 把一個圓形喜餅，平分給
2 個人，可以怎麼分？



甲



乙



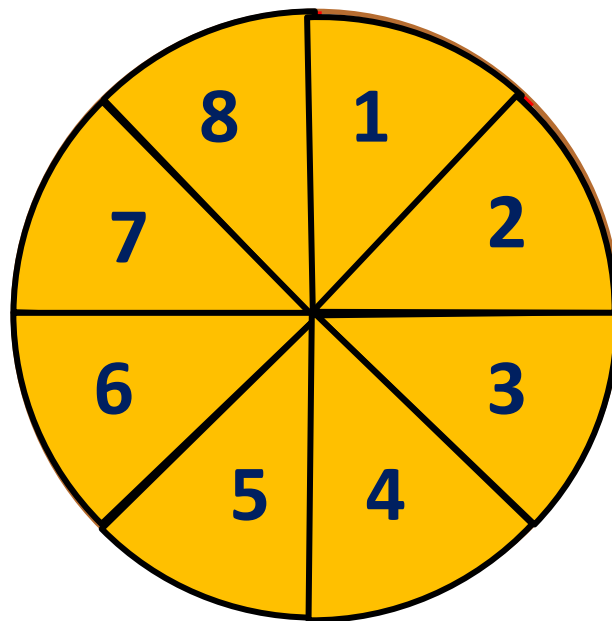
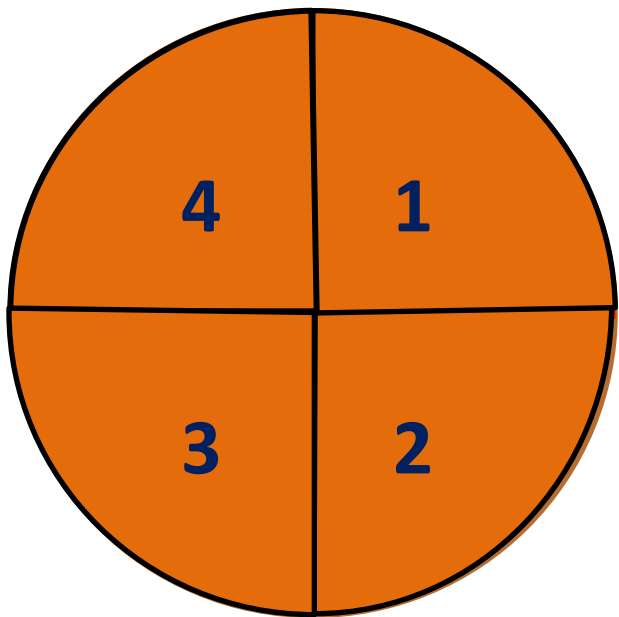
丙

平分就是每個人
分到的都一樣多。

說說看，上面的分法都一樣多嗎？

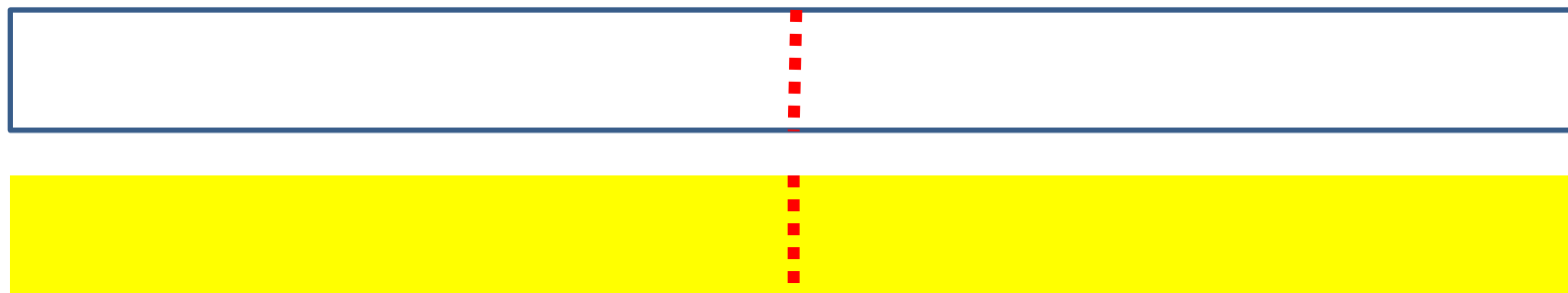
活動一 平分

平分給 4 個人，可以怎麼平分？
平分給 8 個人呢？



活動一 平分

2. 一條彩帶，要平分成 2 段，
可以怎麼分？



從中間，分成相等的左右兩
段

活動一 平分

要平分成 4 段，可以怎麼分？



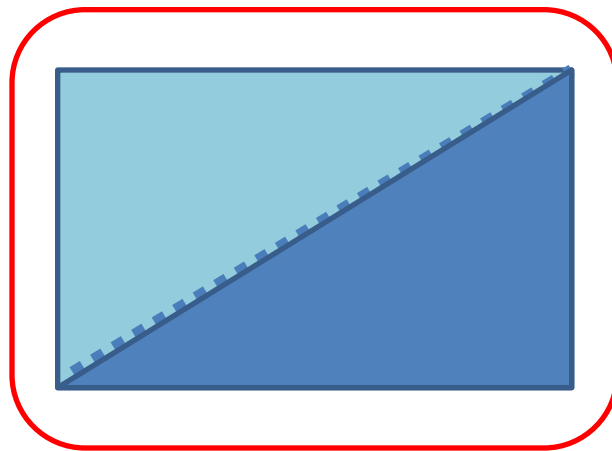
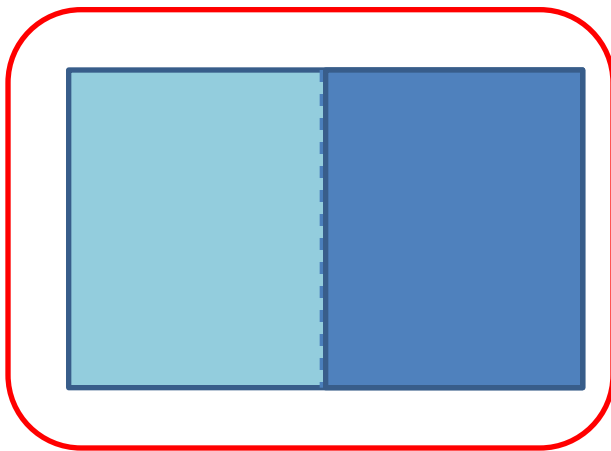
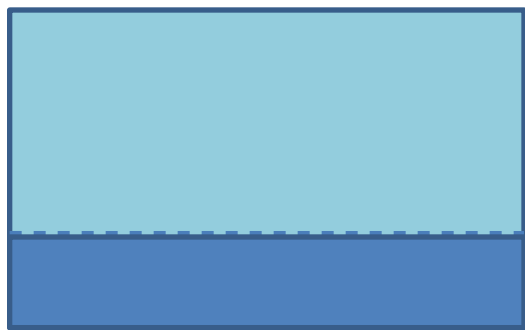
分成相等的四份

要平分成 8 段，可以怎麼分？



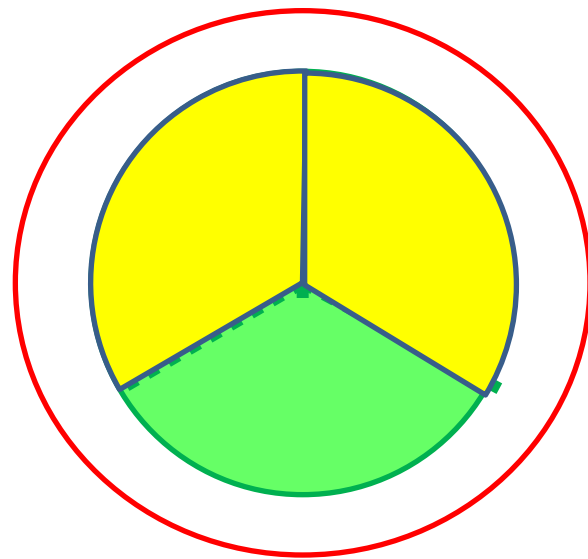
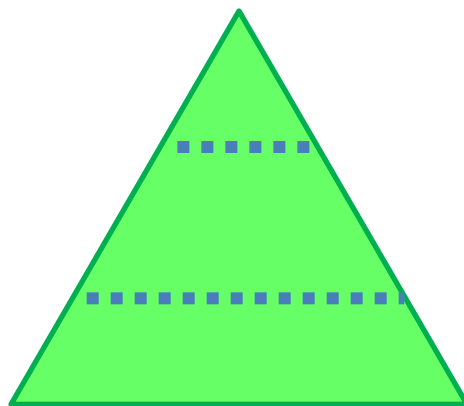
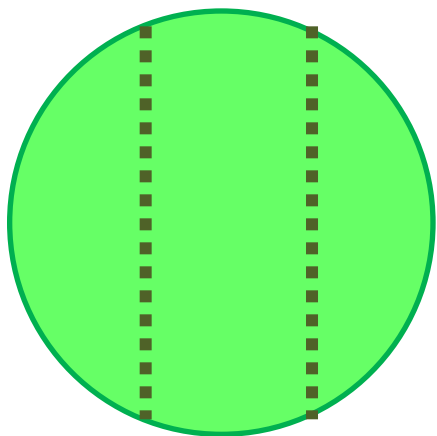
3. 這些都平分了嗎？

(1) 下面哪些平分成 2 份呢？圈圈看。



3. 這些都平分了嗎？

(2) 下面哪些平分成 3 份呢？圈圈看。



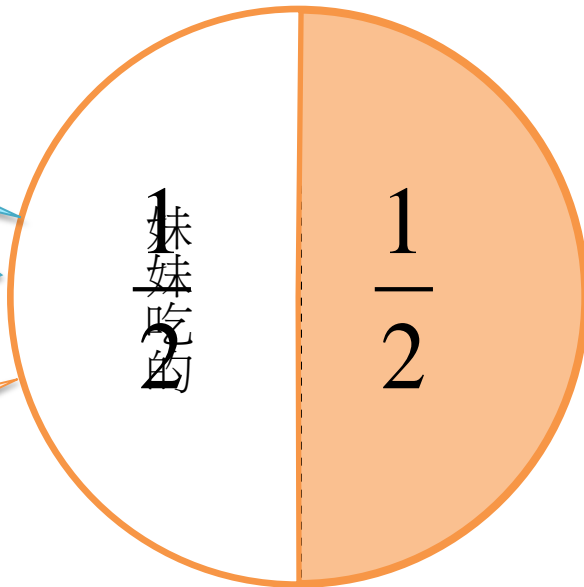
活動二 幾分之一(一)

1. 把一個圓形酥餅平分成2份，妹妹吃了其中的1份，是吃了多少個酥餅？

一塊酥餅

半個酥餅

$\frac{1}{2}$ 個酥餅



把一個酥餅平分成 2 份，
其中的 1 份是「二分之一」個酥餅。

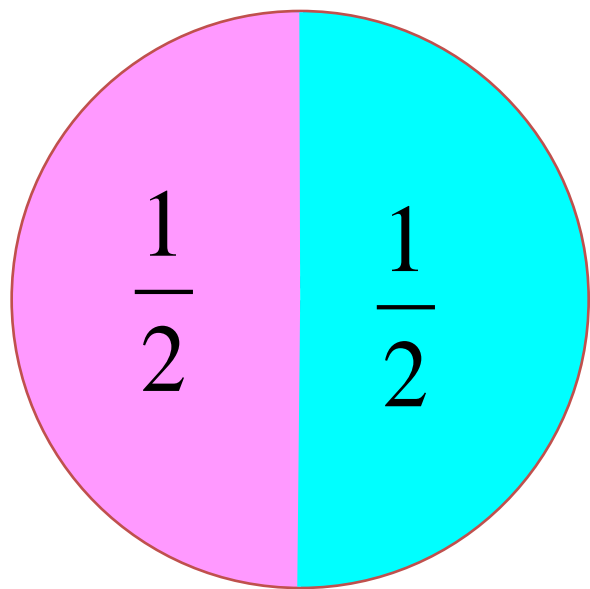
「二分之一」記成

$\frac{1}{2}$

活動二 幾分之一(一)

想想看， $\frac{1}{2}$ 個酥餅的 2 表示什麼？

1 表示什麼？



1

1表示其中的1份

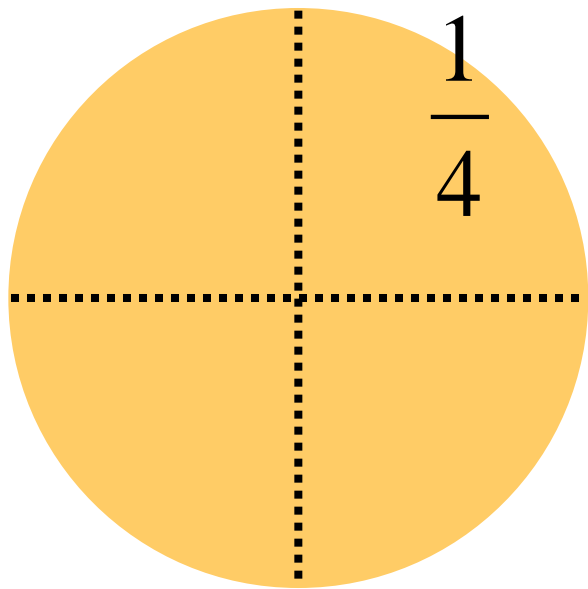
2

2表示
1個酥餅平分成2份

活動二 幾分之一(一)

2. 分喜餅。

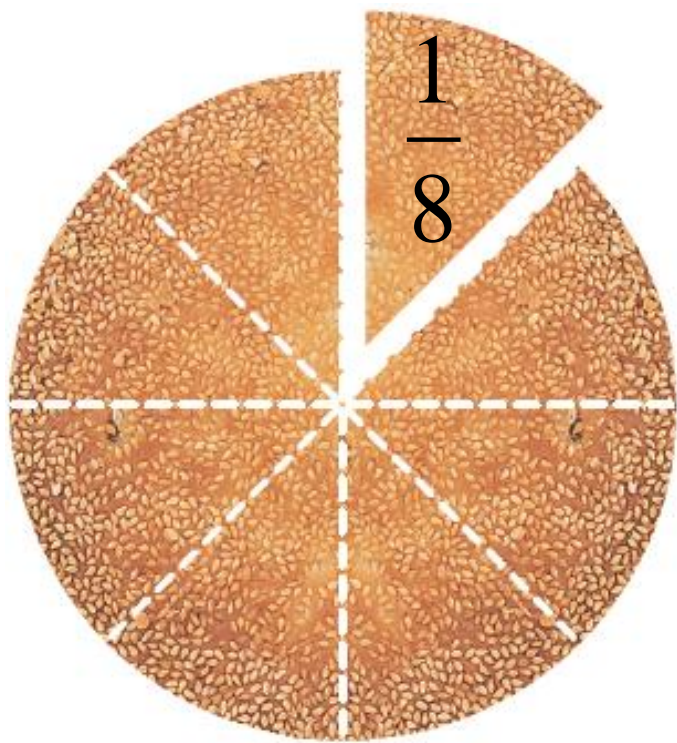
(1) 一個喜餅平分成 4 份，其中的 1 份是幾個喜餅？



把一個喜餅
平分成 4 份，
其中的 1 份
是 $\frac{1}{4}$ 個喜餅。

活動二 幾分之一(一)

(2) 一個喜餅平分成 8 份，
其中的 1 份是幾個喜餅？



$$\frac{1}{8} \text{ 個喜餅}$$

活動二 幾分之一(一)

像 $\frac{1}{2}$ 、 $\frac{1}{4}$ 、 $\frac{1}{8}$ 這樣的數，叫作**分數**。

(其中的 1 份)

1

→ 橫線上的數是**分子**

2

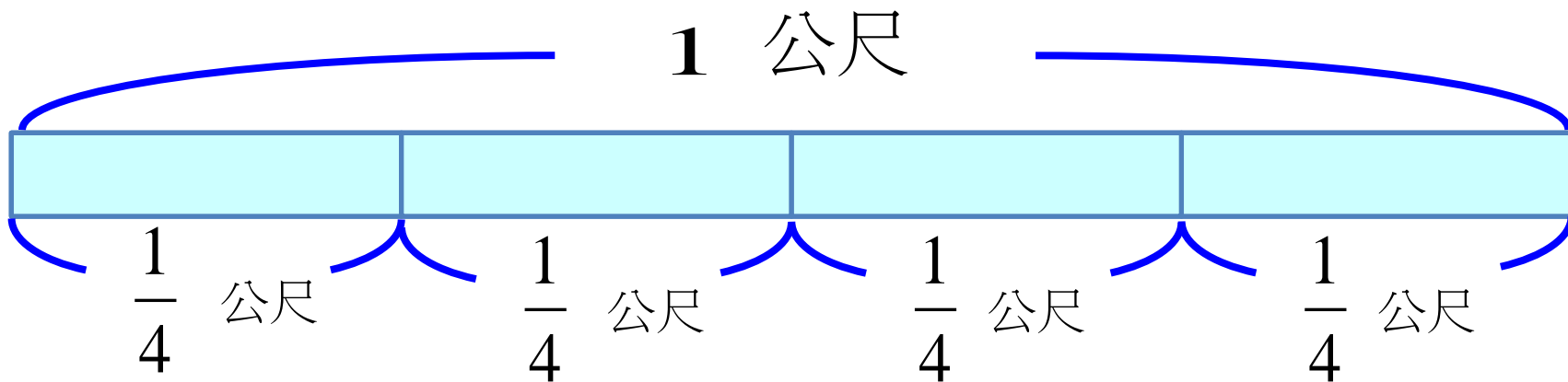
→ 橫線下的數是**分母**

(平分成 2 份)

活動二 幾分之一(一)

3. 把 1 公尺長的彩帶平分成 4 段，
每段做成 1 個蝴蝶結。


做一個蝴蝶結要用幾公尺的彩帶？



活動二 幾分之一(一)

4. 說一說，再用分數記記看。

(1) 把一條蛋糕平分成 3 塊，
其中 1 塊是幾條蛋糕？



一條蛋糕

$\frac{1}{3}$ 條


活動二 幾分之一(一)

4. 說一說，再用分數記記看。

(2) 一個披薩平分成 10 片，
其中 1 片是幾個披薩？



一個披薩



$\frac{1}{10}$ 個

活動二 幾分之一(一)

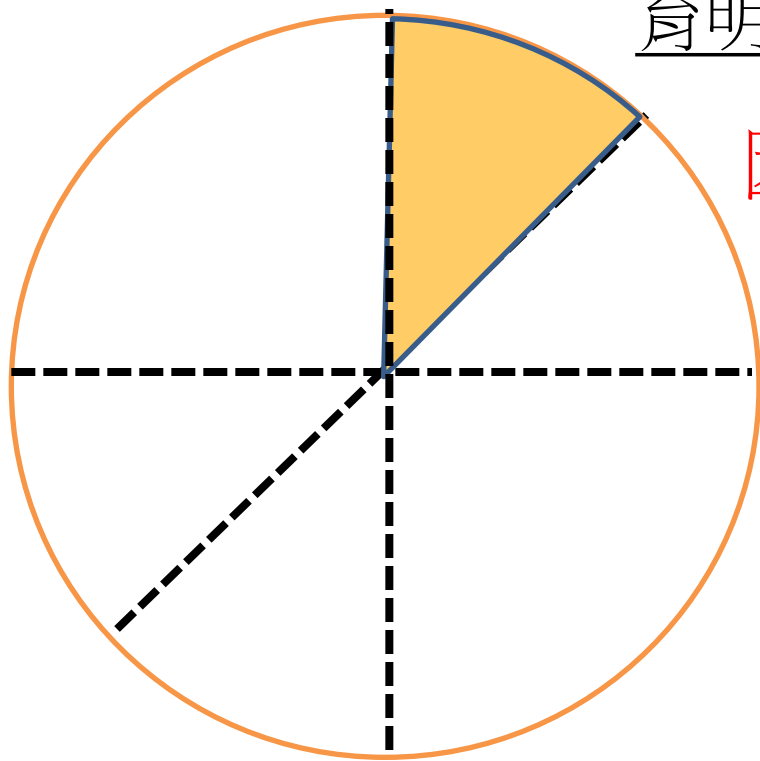
5. 一個蔥油餅像下圖這樣分成 6 片
育明吃了其中的 1 片，是吃了

$\frac{1}{6}$

個蔥油餅嗎？

育明吃的

因為這六片沒有平分



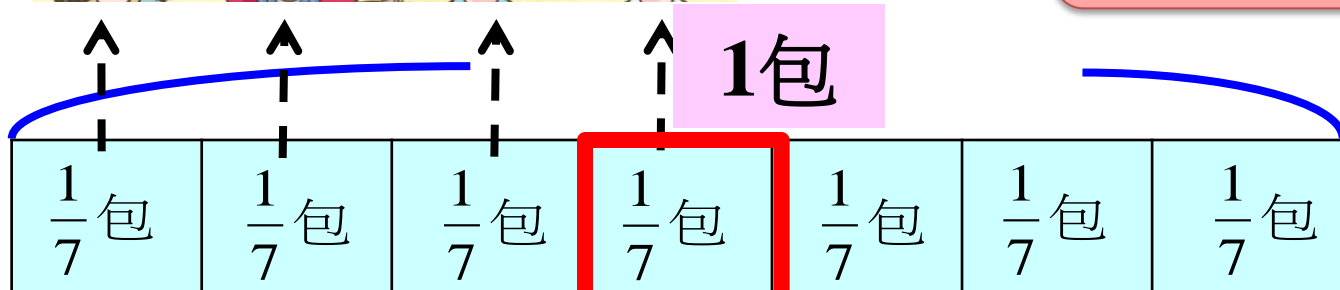
$\frac{1}{6}$ 是把一個蔥油餅**平**
分成 6 份，其中的1份。

活動三 幾分之一(二)

1. 一包口香糖有7片，平分給7個人吃。一個人吃幾包？



我吃 $\frac{1}{7}$ 包



1包口香糖有7片

1片是 $\frac{1}{7}$ 包口香糖



7片

我吃 1片



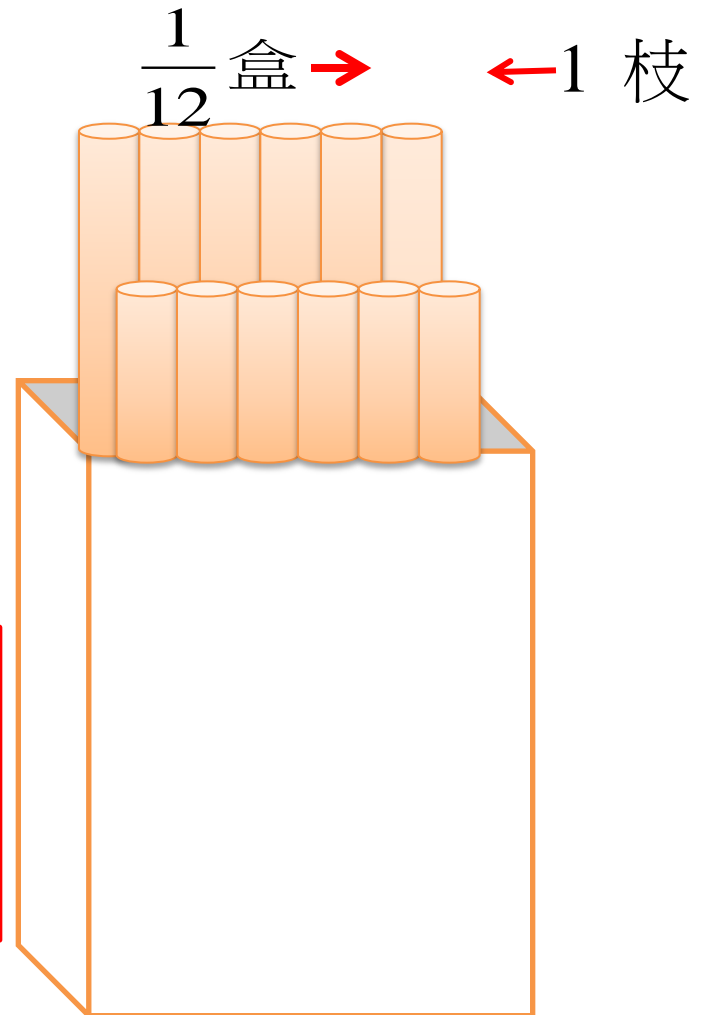
活動三 幾分之一(二)

2. 一盒鉛筆有12 枝，平分給 12個小朋友，1 個小朋友分到幾枝？是幾盒鉛筆？

12枝分給12個人
剛好 1 個人 1 枝

1 枝就是 $\frac{1}{12}$ 盒


答：1個人分到1 枝，
也就是 $\frac{1}{12}$ 盒。



活動三 幾分之一(二)

3. 想一想，說說看。

(1) 一盒雞蛋有 10 個，1 個雞蛋是幾盒？



$\frac{1}{10}$ 盒

(2) 一盒冰棒有 6 枝，平分給6個人，
每人分到幾盒？是幾枝冰棒？

$\frac{1}{6}$ 盒

1枝

活動三 幾分之一(二)

(3) 媽媽買了一盒橘子，爸爸、哥哥和妹妹各吃了 1 個。

爸爸吃了幾盒橘子？

$\frac{1}{12}$ 盒

哥哥吃了幾盒橘子？

$\frac{1}{12}$ 盒

妹妹吃了幾盒橘子？

$\frac{1}{12}$ 盒



一盒共12個橘子



其中的1個是 $\frac{1}{12}$ 盒

活動四 幾分之一比大小

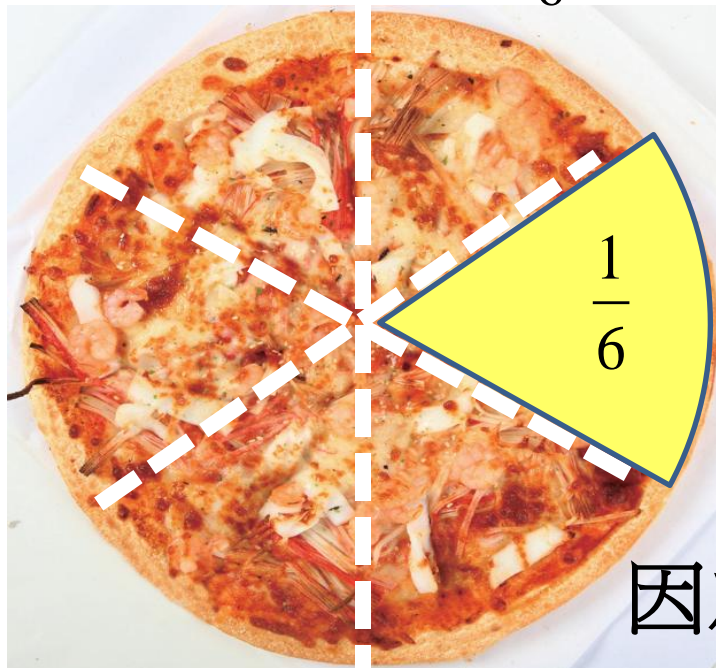
1. 哥哥吃了 $\frac{1}{6}$ 個海鮮披薩，

妹妹吃了 $\frac{1}{6}$ 個蔬菜披薩。

$\frac{1}{6}$ 個海鮮披薩和 $\frac{1}{6}$ 個蔬菜披薩一樣大嗎？

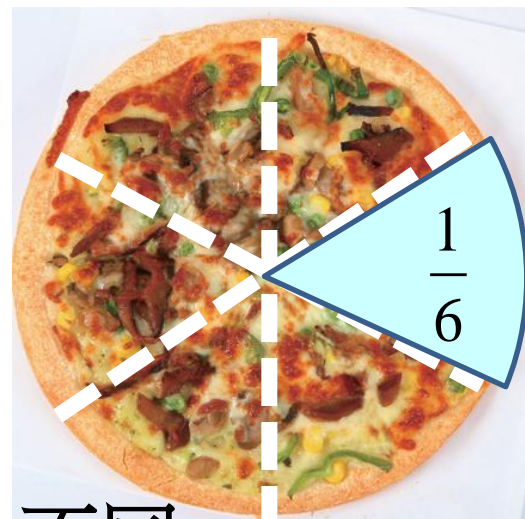
不同的
披薩

為什麼？



海鮮披薩

比較大



蔬菜披薩

比較小

因為披薩本身的大小不同

活動四 幾分之一比大小

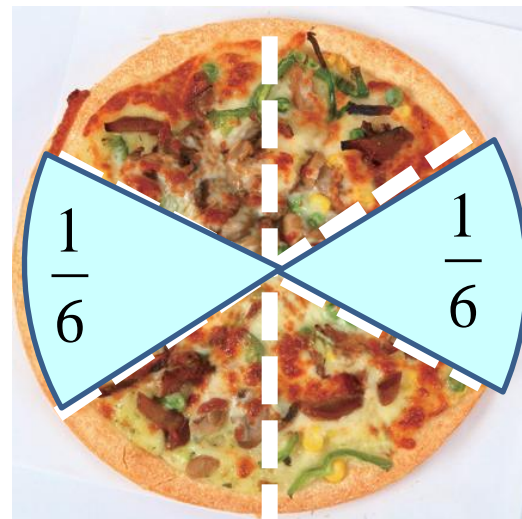
2. 哥哥吃了 $\frac{1}{6}$ 個海鮮披薩，

妹妹吃了 $\frac{1}{6}$ 個海鮮披薩。

相同的
披薩

兩人吃的披薩一樣大嗎？

哥哥吃的



妹妹吃的

因為是同個披薩，所以

$\frac{1}{6}$ 個海鮮披薩和 $\frac{1}{6}$ 個海鮮披薩一樣大