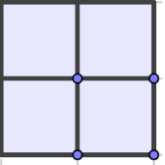
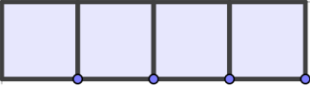
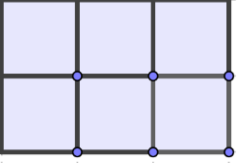
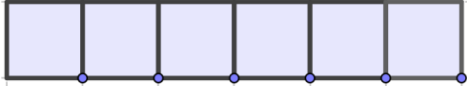


聖公會聖安德烈小學
數學科四年級上學期 單元六 周界 課堂工作紙(一)

組別：() 組員：_____ 班別：四年級____班 日期：_____

1. 根據正方形的數量和排列方法完成下表及找出平面圖形的周界。(請用應用程式 GeoGebra 協助)
(每個小正方形的邊長為 1cm)

正方形數量	方法一		方法二	
	畫出排列方法	周界(cm)	畫出排列方法	周界(cm)
4 個				
6 個				
8 個				
10 個				

2. 我們發現了 方法一 / 方法二 (圈出正確答案) 排出的平面圖形有較長的周界。

3. 為甚麼正方形數量相同，但排出的平面圖形周界會不相同呢？

因為_____