










Sebahodnotiaca karta k pracovnému listu č.2

Sebahodnotiaca karta (D):




Viem narysovať jednu výšku v trojuholníku			
Viem správne označiť výšku			
Viem koľko má trojuholník výšok			
Viem narysovať <u>všetky</u> výšky vo <u>všetkých</u> typoch trojuholníkov			

 – viem sama

 – viem s pomocou

 – neviem sama

Sebahodnotiaca karta (CH):

Viem narysovať jednu výšku v trojuholníku			
Viem správne označiť výšku			
Viem koľko má trojuholník výšok			
Viem narysovať <u>všetky</u> výšky vo <u>všetkých</u> typoch trojuholníkov			

 – viem sám

 – viem s pomocou

 – neviem sám