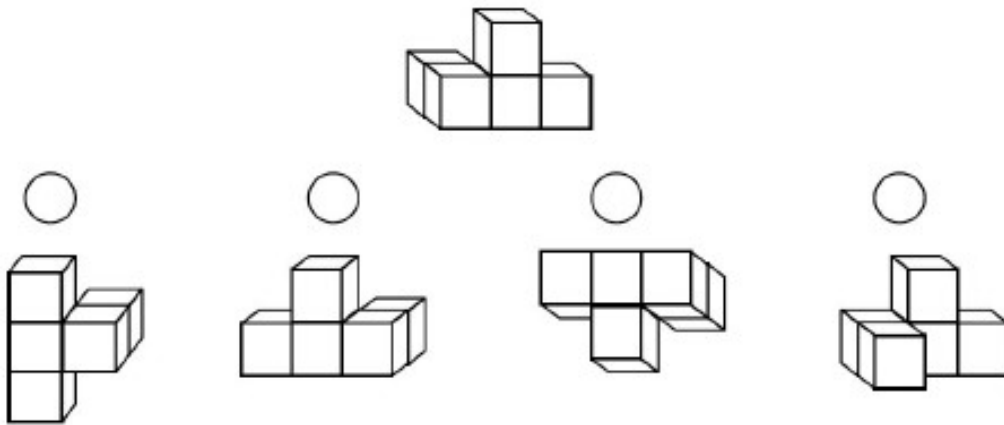
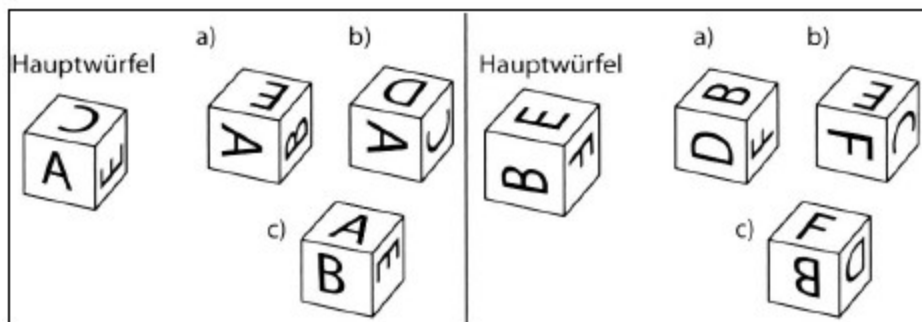


6) Drehen/Kippen eines Würfels

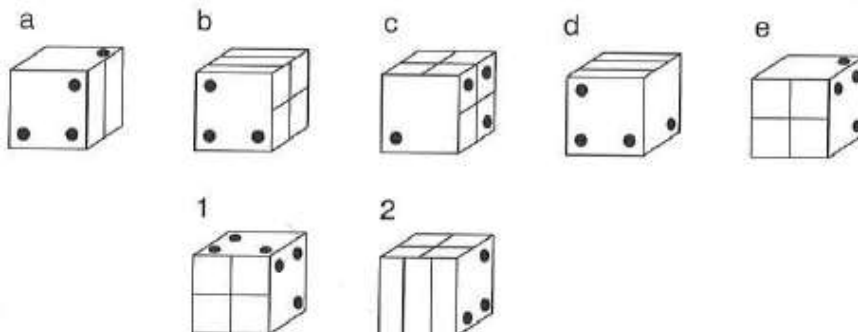
- 1.) Der obere Körper besteht aus fünf Würfeln. Dieser Körper wird gedreht. Welcher der unten abgebildeten Körper kann sich ergeben?



- 2.) Welchen Würfel erhältst du durch Drehen des Hauptwürfels?



- 3.) Die Würfel a bis e sind alle verschieden. Um welchen der Würfel handelt es sich bei den Würfeln 1 und 2?



Antwort:

Würfel 1:

Würfel 2:

4.) Entscheide welche/r Würfel/n a) bis d) nach dem Drehen/Kippen dem vorgegebenen Würfel **NICHT** entsprechen kann/können.

