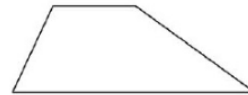
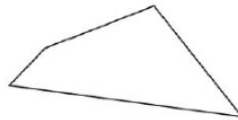
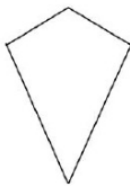
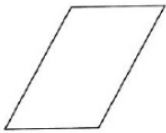
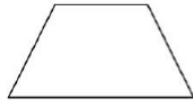
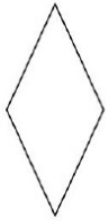


Aufgabe 1

Wie heißen die unten abgebildeten Vierecke? Zeichne bei jedem Viereck die Symmetrieachsen ein und beschrifte das Viereck. Zeichne gleich große Winkel mit derselben Farbe ein.



Aufgabe 2

Welche Vierecke sind hier gemeint?

- Welche Vierecke haben Diagonalen, die einander halbieren?
- Welche Vierecke haben vier gleich lange Seiten?
- Welche Vierecke haben vier rechte Winkel und je zwei zueinander parallele Seiten?
- Welche Vierecke haben zwei gleich lange Diagonalen?
- Welche Vierecke haben je zwei gleich lange Seiten?