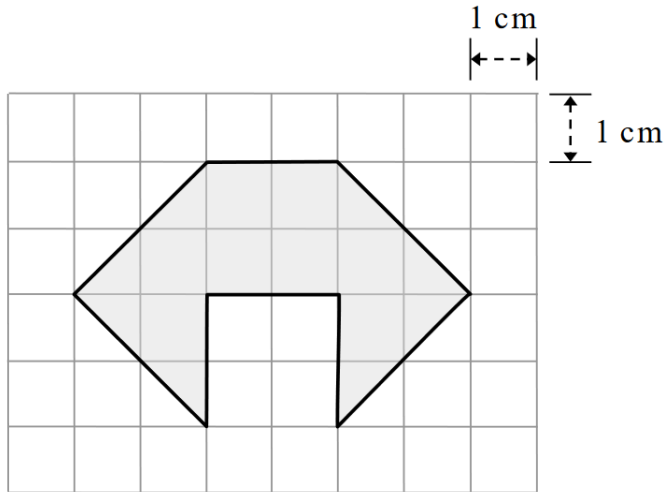


沙田崇真學校 2021-2022 年度 面積

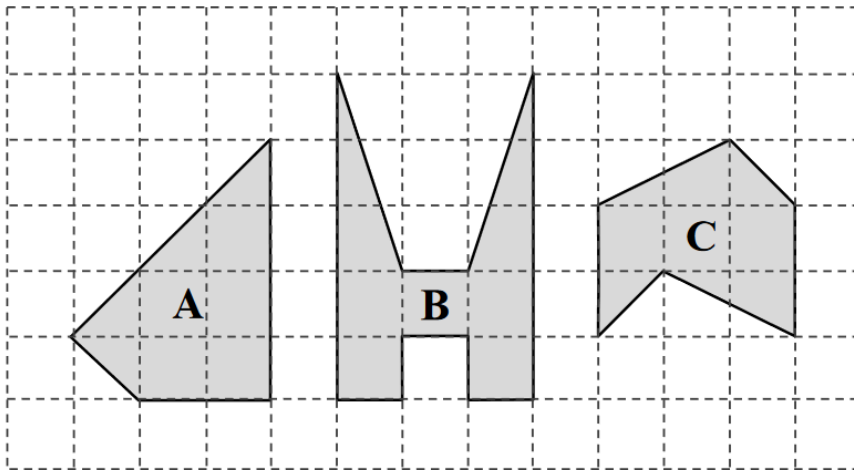
姓名：_____ () 班別：_____ 日期：_____

1. 下圖中，每個方格的邊長是 1 cm。



陰影部分的面積是 _____ cm^2 。

2.



比較上面平面圖形 A、B 和 C 的面積，把它們由大至小排列出來，並寫出所有代表答案的英文字母。

考考你

3. 手提電話的面積約是

- A. 50 cm^2
- C. 200 cm^2

- B. 100 cm^2
- D. 500 cm^2

4. iPad 的面積約是

- A. 100 cm^2
- C. 450 cm^2

- B. 300 cm^2
- D. 600 cm^2

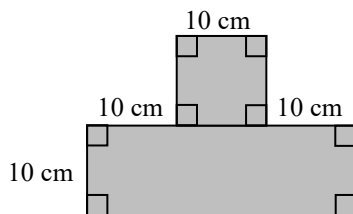
5. 八達通的面積約是

- A. 10 cm^2
- C. 75 cm^2

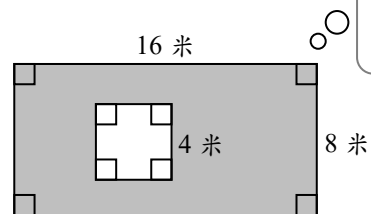
- B. 50 cm^2
- D. 100 cm^2

計算以下各圖形着色部分的面積，答案需寫上單位。

6.



7.



回答以下各題。

8. 長方形畫紙長 35 厘米，面積是 805 平方厘米，闊是 _____ 厘米。

9. 子軒用 4 張邊長是 13 cm 的正方形卡紙拼砌出一個大正方形，大正方形的面積是 _____ cm^2 。