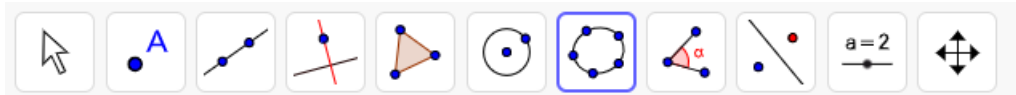






## PROTOCOLLO di COSTRUZIONE

### RETTANGOLI ISOPERIMETRICI

*Perimetro = 20*

#### RELAZIONI TRA BASE E AREA



-  Foglio di calcolo - Nel foglio di calcolo inserisci correttamente i dati relativi a base e area di rettangoli isoperimetrici di perimetro 20.
-  seleziona i dati dalla casella A2 alla casella B11
-  lista di punti – crea lista punti. Oggetti dipendenti;  $x \rightarrow y$
-  Conica – cinque punti. Seleziona in successione i primi 5 punti posizionati sul piano.