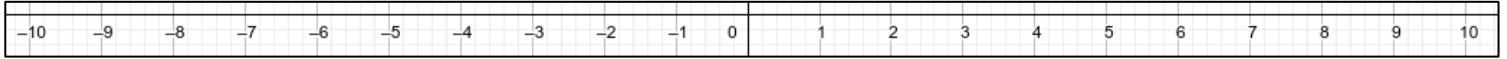






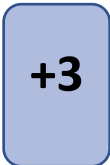




EJERCICIOS SOBRE LA RECTA REAL

Construir **10** rectas reales como la que se ve más abajo y realizar sobre ellas las operaciones que muestran las distintas tarjetas numeradas.

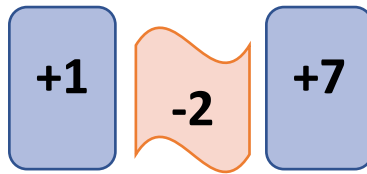


- ⚠ **ANTES DE EMPEZAR:** MARCA EN **AZUL** EL PUNTO DE INICIO SOBRE LA RECTA.
⚠ **CUANDO TERMINES** DE HACER LAS OPERACIONES: MARCA EN **ROJO** EL PUNTO DEL RESULTADO SOBRE LA RECTA.

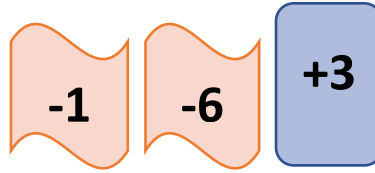
SI ES NECESARIO, PUEDES MARCAR LOS SALTOS INTERMEDIOS CON LÁPIZ O CON OTRO COLOR.

1. INICIO EN: **3**. APLICAR: 
2. INICIO EN: **9**. APLICAR: 
3. INICIO EN: **-2**. APLICAR:  
4. INICIO EN: **0**. APLICAR:  
5. INICIO EN: **4**. APLICAR:   

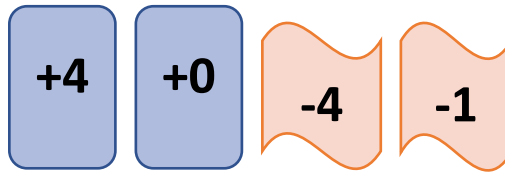
6. INICIO EN: **-4**. APLICAR:



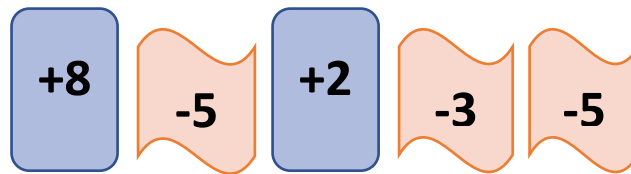
7. INICIO EN: **10**. APLICAR:



8. INICIO EN: **-1**. APLICAR:



9. INICIO EN: **2**. APLICAR:



10. INICIO EN: **-8**. APLICAR:

