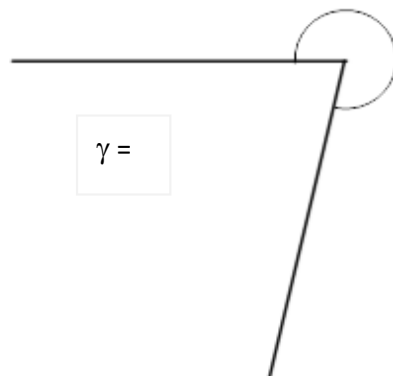
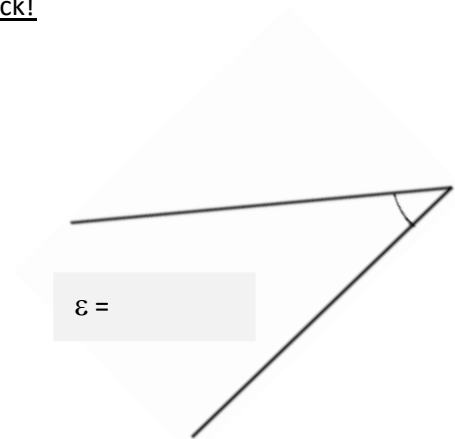
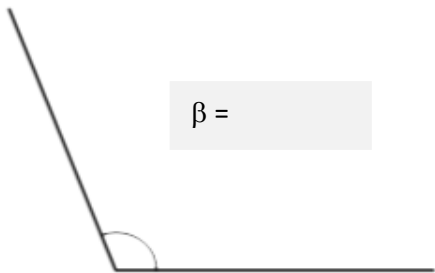
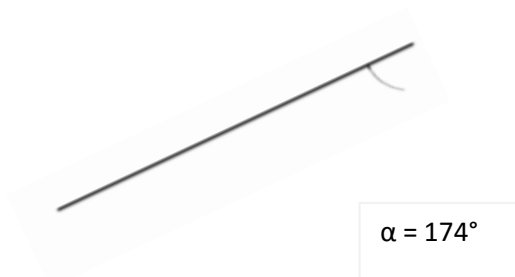
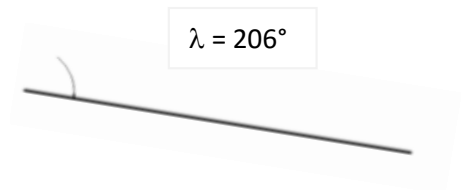
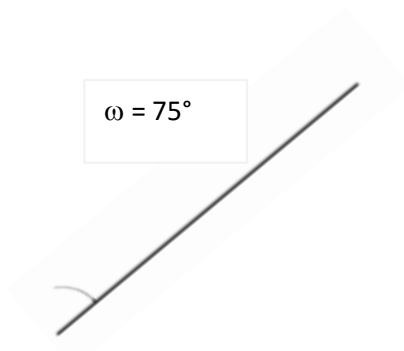


Arbeitsblatt: Winkel zeichnen und messen

1. Messe folgende Winkel ab. Verwende dazu dein Geodreieck!



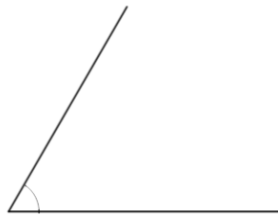
2. Zeichne folgende Winkel. Achte auf Genauigkeit!



3. Was passt zusammen? Verbinde die Zeichnung mit der richtigen Angabe!



$$\gamma = 170^\circ$$



$$\lambda = 300^\circ$$



$$\beta = 60^\circ$$

4. Zeichne in dein Heft:

- einen spitzen Winkel
- einen rechten Winkel
- einen vollen Winkel

5. Zeichne folgende Winkel in dein Heft. Achte auf Genauigkeit!

- $\alpha = 35^\circ$
- $\delta = 222^\circ$
- $\varepsilon = 94^\circ$